












1. Spoj násobky čísla 2 od nejmenšího po největší.



2. Dopln pismena násobků čísla 2 a do obdélníků zapiš příklad ( podle vzoru).

D V Ě

1.2

— — S T



DE \_\_\_ T       DV \_\_\_ ET

\_\_\_ ŘI       OSM \_\_\_ CT

DV \_\_\_ CT       Č \_\_\_ NÁCT

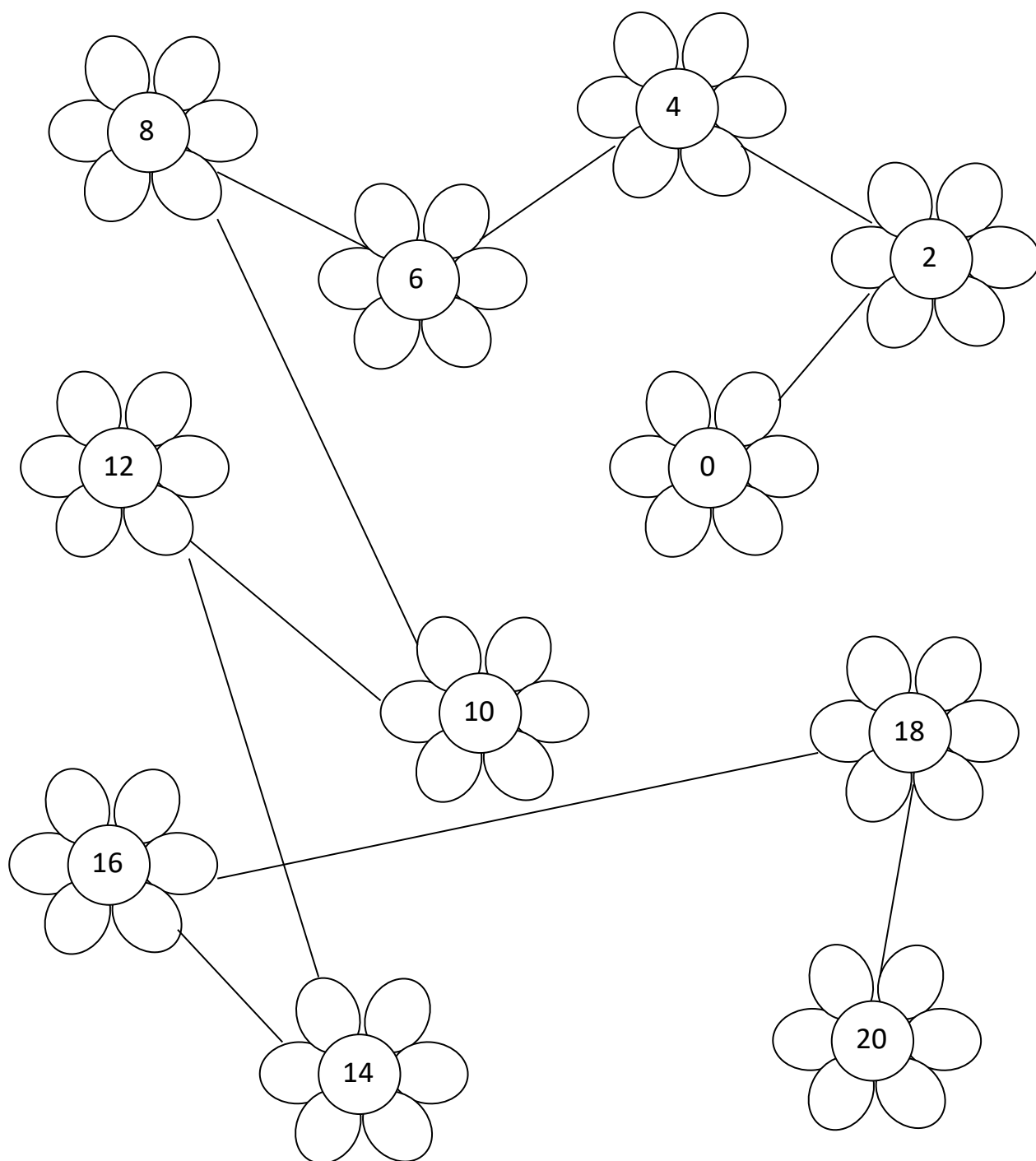
ŠE \_\_\_ ÁCT       O \_\_\_ M

**3. Ve čtyřsměrce najdi násobky čísla 2 .**

D	V	A	N	Á	C	T	K	C	B	R	A
V	O	E	Y	Č	T	R	N	Á	C	T	O
A	B	Š	O	S	M	N	Á	C	T	P	Z
C	D	E	S	E	T	K	Č	T	Y	Ř	I
E	V	S	M	Š	E	S	T	N	Á	C	T
T	Ě	T	B	Z	K	G	H	K	Á	G	Y

## ŘEŠENÍ

1. Spoj násobky čísla 2 od nejmenšího po největší.



2. Doplň písmena násobků čísla 2 a do obdélníků zapiš příklad

(podle vzoru).

1.2

3.2

D V Ě

Š E S T

D E S E T

5.2

D V A C E T

10.2

Č T Y Ř I

2.2

O S M N Á C T

9.2

D V A N Á C T

6.2

Č T R N Á C T

7.2

Š E S T N Á C T

8.2

O S M

4.2

3. Ve čtyřsměrce najdi násobky čísla 2 .

D	V	A	N	Á	C	T	K	C	B	R	A
V	O	E	Y	Č	T	R	N	Á	C	T	O
A	B	Š	O	S	M	N	Á	C	T	P	Z
C	D	E	S	E	T	K	Č	T	Y	Ř	I
E	V	S	M	Š	E	S	T	N	Á	C	T
T	Ě	T	B	Z	K	G	H	K	Á	G	Y