

NÁSOBILKA 2



1. Do tabulky doplňte násobky čísla 2, potom spoj příklady s jednotlivými násobky.

0

$3 \cdot 2 =$

$5 \cdot 2 =$

$1 \cdot 2 =$

$6 \cdot 2 =$

$9 \cdot 2 =$

$7 \cdot 2 =$

$4 \cdot 2 =$

$2 \cdot 2 =$

$8 \cdot 2 =$

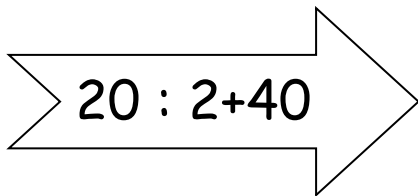
$9 \cdot 2 =$

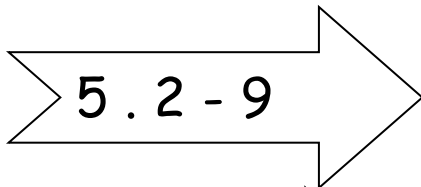
$10 \cdot 2 =$

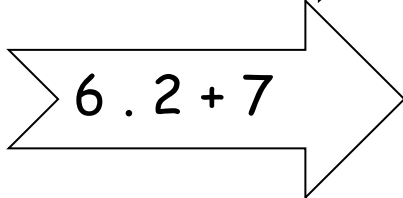
$0 \cdot 2 =$

2. Vypočítej početní řetězce (pozor = přednost má násobení a dělení):

$2 \cdot 8 + 35$


$$20 : 2 + 40$$


$$5 \cdot 2 - 9$$


$$6 \cdot 2 + 7$$

3. Vybarvi klobouky s násobky čísla 2.

